

MATEMÁTICAS

Para el verano recomendamos realizar la siguiente tarea de matemáticas que simplemente es orientativa en ningún caso obligatoria.


Al igual que durante todo el curso existirá una parte de cálculo, otra de numeración y otra de problemas.

Es importante realizar un trabajo limpio, ordenado, bien escrito, cada número en su cuadrado, respetando los renglones... recuerde que más vale poco y bien que mucho y mal. Sería aconsejable que la tarea de matemáticas la hicieran en un cuaderno de cuadrillos, ya que en tercero utilizan también el cuaderno de cuadrillos para las matemáticas.

Antes de realizar las tareas recuerde que:

- Es importante repasar las tablas.
- En los problemas no pueden olvidar ninguno de los pasos a seguir:
 - a) Leer el problema detenidamente para saber qué nos pide.
 - b) Subrayar de rojo los datos y de azul la pregunta.
 - c) Escribir los datos.
 - d) Realizar la operación u operaciones.
 - e) Poner la solución.
 - f) Comprobar si esa solución puede ser real.

Sin otro particular les saludamos atentamente deseando que pasen un feliz verano. No olviden que las tareas del verano sirven para reforzar lo aprendido pero hay que olvidar que la tarea fundamental del verano es divertirse, pasarlo bien y descansar.



BLOQUE 1.

1. Coloca y suma:

$234 + 356 + 23 =$

$356 + 124 + 527 =$

$258 + 139 + 679 =$

$956 + 24 + 379 =$

$467 + 201 + 148 =$

$367 + 267 + 25 =$

2. Coloca y resta:

$447 - 278 =$

$580 - 243 =$

$792 - 581 =$

$304 - 162 =$

$216 - 48 =$

$247 - 188 =$

3. Multiplica:

$5 \times 9 =$

$6 \times 8 =$

$7 \times 4 =$

$6 \times 6 =$

$4 \times 9 =$

$2 \times 3 =$

$9 \times 7 =$

$3 \times 0 =$

$4 \times 9 =$

$8 \times 4 =$

4. Escribe con letra los siguientes números. Ponlos uno debajo de otro:

$345 - 561 - 224 - 875 - 932 - 721 - 456 - 781 - 114 - 309$

5. Sigue la serie:

$123 - 126 - \dots\dots\dots 156$

$577 - 581 - \dots\dots\dots 621$

$354 - 344 - \dots\dots\dots 244$

6. Viendo un partido de fútbol había 36 personas. En el descanso se fueron 15. ¿Cuántas personas quedaron viendo el partido?

7. En mi calle hay 57 coches aparcados. Si 25 son de color rojo. ¿Cuántos coches son de otro color?

8. ¿Cuánto valen 5 bolsas de pipas a 30 céntimos cada bolsa?

9. Tengo 10 canicas en una bolsa y 8 en otra. Quiero reunir 38 canicas. ¿Cuántas canicas me faltan?

BLOQUE 2.

1. Coloca y suma:

$679 + 241 + 457 =$

$538 + 471 + 471 =$

$56 + 714 + 503 =$

$441 + 29 + 571 =$

$163 + 471 + 261 =$

$357 + 270 + 382 =$

2. Coloca y resta:

$456 - 236 =$

$781 - 329 =$

$410 - 298 =$

$937 - 458 =$

$629 - 47 =$

$881 - 377 =$

3. Multiplica:

$4 \times 5 =$

$3 \times 6 =$

$4 \times 2 =$

$7 \times 1 =$

$9 \times 9 =$

$8 \times 9 =$

$5 \times 7 =$

$6 \times 9 =$

$2 \times 8 =$

$8 \times 4 =$

4. Escribe con letra los siguientes números. Ponlos uno debajo de otro:

224 - 567 - 976 - 354 - 532 - 892 - 425 - 789 - 180 - 652

5. Sigue las series:

927- 922 872

505 – 516..... 626

284 – 287 317

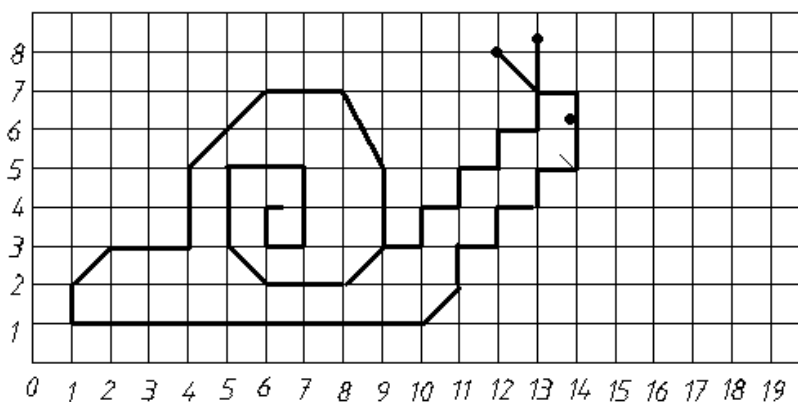
6. En un almacén hay 90 cajas de leche. Un camión se lleva 34 cajas y otro camión se lleva 12. ¿Cuántas cajas de leche quedan en el almacén?

7. En una caja caben 395 cerezas y en una bolsa 117 cerezas menos. ¿Cuántas cerezas caben en la bolsa?

8. En una finca se han plantado 12 filas de olivos con 4 olivos en cada fila. ¿Cuántos olivos se han plantado en total?

9. En un autobús viajan 55 personas. En la primera parada bajan 27 personas y suben 12. ¿Cuántas personas hay ahora en el tren?

10. Realiza el siguiente dibujo en tu cuaderno:



BLOQUE 3

1. Coloca y suma:

$368 + 789 + 468 =$

$930 + 306 + 36 =$

$471 + 592 + 483 =$

$681 + 57 + 49 =$

$536 + 482 + 551 =$

$279 + 379 + 17 =$

2. Coloca y resta:

$589 - 256 =$

$379 - 182 =$

$782 - 99 =$

$971 - 368 =$

$481 - 96 =$

$879 - 444 =$

3. Multiplica:

$5 \times 6 =$

$7 \times 2 =$

$8 \times 9 =$

$2 \times 6 =$

$4 \times 9 =$

$7 \times 3 =$

$9 \times 7 =$

$3 \times 4 =$

$5 \times 9 =$

$6 \times 8 =$

4. Escribe con letra los siguientes números. Uno debajo de otro:

$626 - 587 - 664 - 532 - 927 - 753 - 126 - 509 - 336 - 715$

5. Sigue la serie:

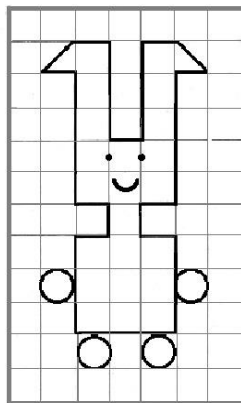
$935 - 929 \dots\dots\dots 869$

$534 - 532 \dots\dots\dots 546$

$779 - 782 \dots\dots\dots 818$

6. En un invernadero hay 8 jardineras. En cada jardinera plantamos 9 margaritas. ¿Cuántas margaritas hay en total?

7. Tengo 8 años, mi madre 36 y mi abuelo 76. ¿Cuántos años tenemos entre los tres?
8. Tengo 3 monedas de 50 céntimos. Si compro un cuento que vale 73 céntimos. ¿Cuántos céntimos me quedan?
9. Un niño compró ayer 54 caramelos y hoy 65. ¿Cuántos caramelos tiene ahora?
10. En un campo hay 3 manzanos. Si cada manzano tiene 53 manzanas. ¿Cuántas manzanas hay en total?
11. Haz el dibujo y colorea:



BLOQUE 4

1. Coloca y suma:

$$962 + 56 + 478 =$$

$$678 + 542 + 124 =$$

$$592 + 782 + 321 =$$

$$792 + 231 + 43 =$$

$$875 + 68 + 47 =$$

$$467 + 105 + 276 =$$

2. Coloca y resta:

$$954 - 362 =$$

$$571 - 103 =$$

$$649 - 57 =$$

$$751 - 195 =$$

$$733 - 462 =$$

$$936 - 878 =$$

3. Multiplica:

$6 \times 6 =$

$7 \times 5 =$

$8 \times 3 =$

$9 \times 2 =$

$5 \times 7 =$

$3 \times 4 =$

$1 \times 9 =$

$4 \times 6 =$

$2 \times 8 =$

$9 \times 8 =$

4. Escribe con letra los siguientes números. Uno debajo de otro:

194 – 665 – 426 – 892 – 763 – 436 – 624 – 947 – 777 – 809

5. Sigue la serie:

338 – 348 438

762 – 758 718

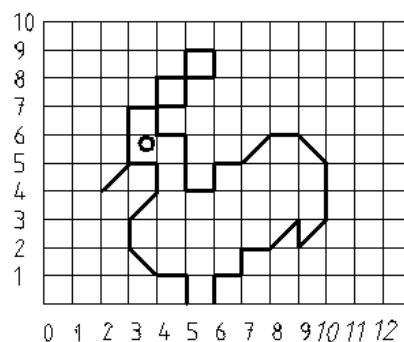
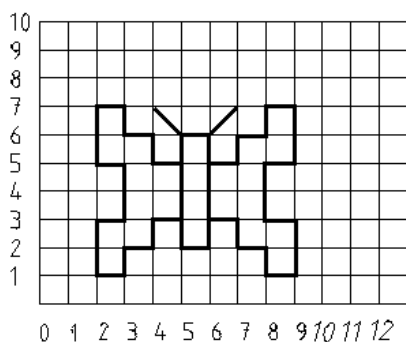
512 – 507 457

6. Un coche recorre un día 374 kilómetros y al día siguiente 183. ¿Cuántos kilómetros recorre en total?

7. Para hacer una tortilla necesito 12 huevos. Si quiero hacer 4 tortillas. ¿Cuántos huevos necesitaré?

8. Una caja tiene 100 bombones. Si cada uno de mis siete amigos se comen 4 bombones. ¿Cuántos bombones quedarán en la caja?

9. Haz los dibujos y colorea:



BLOQUE 5

1. *Calcula y suma:*

$458 + 281 + 45 =$

$859 + 32 + 1.345 =$

$781 + 540 + 37 =$

$740 + 199 + 678 =$

$671 + 435 + 693 =$

$546 + 34 + 793 =$

2. *Coloca y resta:*

$468 - 189 =$

$502 - 483 =$

$792 - 241 =$

$937 - 388 =$

$356 - 27 =$

$450 - 308 =$

3. *Multiplica:*

$3 \times 5 =$

$6 \times 8 =$

$9 \times 4 =$

$7 \times 8 =$

$2 \times 6 =$

$8 \times 7 =$

$4 \times 7 =$

$5 \times 3 =$

$7 \times 0 =$

$8 \times 4 =$

4. *Escribe con letra los siguientes números. Uno debajo de otro:*

$224 - 682 - 535 - 703 - 471 - 125 - 336 - 835 - 629 - 768$

5. *Sigue las series*

$846 - 852 \dots\dots\dots 912$

$768 - 775 \dots\dots\dots 838$

$412 - 410 \dots\dots\dots 390$

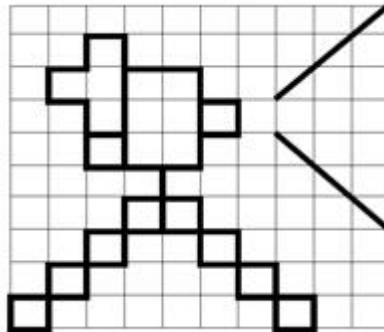
6. *Para ir al colegio cojo 4 veces el autobús. Si cada viaje me cuesta 50 céntimos. ¿Cuánto gasto al día?*

7. *Elena tiene 9 años. Su madre tiene el triple de años. ¿Cuántos años tiene su madre?*

8. Un barco mide 124 metros de largo y un submarino 43 metros. ¿Cuántos metros mide más un barco que un submarino?

9. David quiere comprar un helado que cuesta 65 céntimos. Tiene dos monedas de 20 céntimos. ¿Cuánto dinero le falta para comprar el helado?

10. Haz este dibujo y colorea:



BLOQUE 6

1. Coloca y suma:

$$672 + 403 + 1.365 =$$

$$654 + 68 + 483 =$$

$$982 + 204 + 25 =$$

$$582 + 4.312 + 586 =$$

$$372 + 382 + 946 =$$

$$567 + 389 + 470 =$$

2. Coloca y resta:

$$478 - 108 =$$

$$469 - 285 =$$

$$760 - 498 =$$

$$589 - 406 =$$

$$397 - 359 =$$

$$847 - 79 =$$

3. Multiplica:

$$4 \times 6 =$$

$$6 \times 9 =$$

$$8 \times 9 =$$

$$7 \times 5 =$$

$$2 \times 7 =$$

$$9 \times 7 =$$

$$5 \times 7 =$$

$$1 \times 2 =$$

$$3 \times 7 =$$

$$4 \times 6 =$$

4. Escribe con letra los siguientes números. Uno debajo de otro:

456 – 325 – 635 – 768 – 924 – 568 – 102 – 278 – 789 – 826

5. Sigue la serie,

735 – 731 691

483 – 487 527

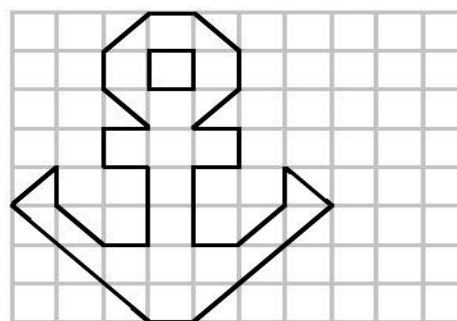
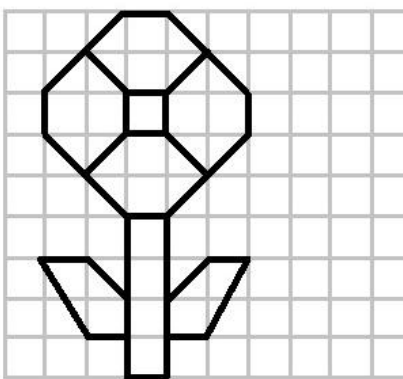
213 – 207 147

6. María va a comprar un litro de leche que cuesta 130 céntimos. Su madre le ha dado 3 monedas de 50 céntimos. ¿Cuánto dinero le devolverán?

7. ¿Cuántos lápices hay en 4 cajas de 12 lápices cada una?

8. En la pastelería hay 395 buñuelos de crema, Alejandra ha vendido 247. ¿Cuántos buñuelos quedan?

9. Haz el dibujo y colorea:



BLOQUE 7

1. Coloca y suma:

$5.467 + 867 + 213 =$

$761 + 543 + 265 =$

$894 + 356 + 254 =$

$469 + 68 + 651 =$

$492 + 458 + 179 =$

$671 + 652 + 83 =$

2. Coloca y resta:

$356 - 159 =$

$499 - 379 =$

$982 - 105 =$

$760 - 496 =$

$595 - 398 =$

$574 - 59 =$

3. Multiplica:

$3 \times 6 =$

8×6

$9 \times 4 =$

$5 \times 3 =$

$2 \times 8 =$

$7 \times 5 =$

4×8

$3 \times 0 =$

$6 \times 6 =$

$4 \times 7 =$

4. Escribe con letra los siguientes números. Uno debajo de otro:

$568 - 425 - 875 - 435 - 673 - 891 - 125 - 376 - 726 - 937$

5. Sigue la serie:

$224 - 231 \dots\dots\dots 301$

$557 - 547 \dots\dots\dots 647$

$324 - 319 \dots\dots\dots 269$

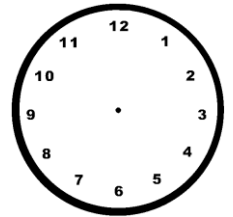
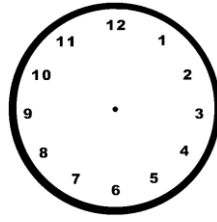
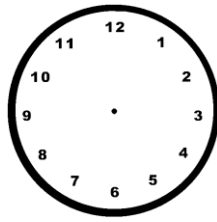
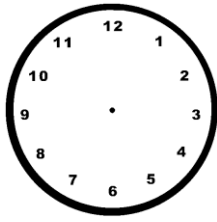
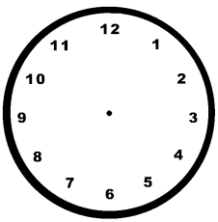
6. En la biblioteca del colegio hay 95 libros de aventuras, 180 libros de naturaleza y 205 libros de poesía. ¿Cuántos libros hay en total?

7. Yo peso 37 kilos y Manuel pesa 4 kilos más que yo. ¿Cuánto pesamos entre los dos?

8. En una carrera tomaron la salida 312 corredores. Si abandonaron 87. ¿Cuántos corredores llegaron a la meta?

BLOQUE 8

1. Dibuja estos relojes y señala la hora que se indica. Recuerda que la manilla pequeña se colorea de rojo y la grande de azul.



-Las 2 en punto

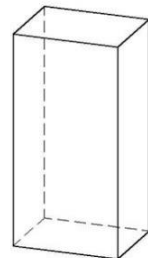
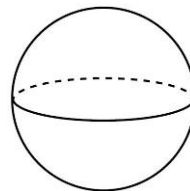
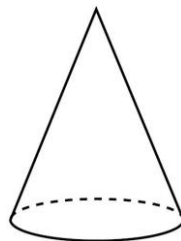
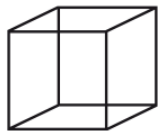
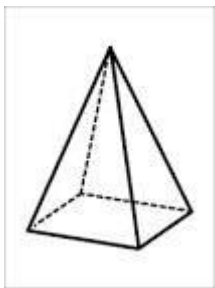
-Las 4 y cuarto

-Las 7 y media

- Las 12 en punto

- Las 5 menos cuarto

2. Escribe el nombre de las siguientes figuras geométricas:



3. Inventa dos problemas con cada una de estas operaciones:

a) $34 + 42 = 76$

b) $345 - 123 = 222$

c) $12 \times 4 = 48$